The page features a decorative border composed of overlapping circles in shades of green and blue, arranged in a circular pattern around the central text. The circles vary in size and are set against a light gray background.

***Контрольно-измерительные материалы
для проведения промежуточной
аттестации по итогам реализации
программы «Веселая математика»***

1. В каком ряду все числа расположены от меньшего числа к большему в правильном порядке?

а) 5, 4, 3, 2, 9, 8

б) 1, 2, 3, 5, 7, 9

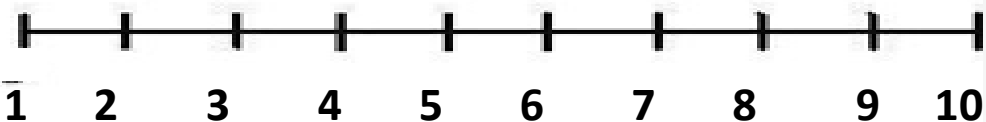
в) 1, 4, 3, 2, 5, 6

г) 1, 2, 3, 4, 5, 6

2. Впиши пропущенные цифры?

1. _ _ 4 _ 6 7 _ 9 10

3. Реши примеры с помощью числового отрезка.



$$4+2= \square$$

$$6-2= \square$$

$$3+3= \square$$

$$7-3= \square$$

$$2+2+1= \square$$

$$5-3-1= \square$$

4. Какая запись верная?

Мама купила в магазине 10 яиц. Из 3-х яиц она пожарила яичницу. Сколько яиц осталось?

а) $7 + 3 = 10$

б) $10 - 3 = 7$

в) $10 - 7 = 3$

г) $4 + 3 = 7$

5. Укажи соседей числа 6

а) 5 и 7

б) 4 и 5

в) 3 и 7

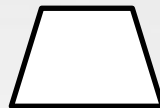


6. Поставь нужный знак $>$, $<$, $=$

$4 \square 5$

$7 \square 7$

$3 \square 4$

7. Найди и раскрась треугольник



8. В какой группе нарисованы только прямые линии?

