

**МУНИЦИПАЛЬНОЕ БЮДЖЕТНОЕ УЧРЕЖДЕНИЕ ДОПОЛНИТЕЛЬНОГО ОБРАЗОВАНИЯ
«Ермаковский центр дополнительного образования»**

Красноярский край, Ермаковский район, с. Ермаковское, ул. Щетинкина -11,
тел: 8(39138) -2-12-22, 8(39138) – 2-48 – 98, электронная почта: ermcdo@mail.ru

Согласовано:

Заместитель директора по УВР
_____ О.В. Новикова

Утверждаю:

Директор МБУДО «Ермаковский центр
дополнительного образования»
_____ Л.А. Веселова

**Контрольно-измерительные материалы
в рамках проведения промежуточной аттестации по итогам
по дополнительной общеобразовательной общеразвивающей
программе «Веселая математика»**

Тестирование

Инструкция по проведению

1. Заполните анкетные данные
2. Прочитайте текст задания
3. Правильный ответ необходимо отметить любым знаком
4. На выполнение 8 заданий отводится 25 мин

Анкетные данные:

Дата: _____

Фамилия, имя участника: _____

Группа: _____

Педагог: _____

Результаты теста:

Количество набранных баллов _____ (1 верный ответ = 1 балл, наибольшее количество баллов-8)

Уровень усвоения программы: _____

Тестовые задания

1. В каком ряду все числа расположены от меньшего числа к большему?

а) 5, 4, 3, 2, 9, 8

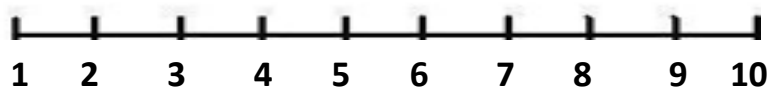
б) 1, 4, 3, 2, 5, 6

в) 1, 2, 3, 4, 5, 6

2. Впиши пропущенные цифры?

1 _ _ 4 _ 6 7 _ 9 10

3. Реши примеры с помощью числового отрезка.



$4+2=\square$

$6-2=\square$

$3+3=\square$

$7-3=\square$

$2+2+1=\square$

$5-3-1=\square$

5. Какая запись верная?

Мама купила в магазине 10 яиц. Из 3 яиц она пожарила яичницу.
Сколько яиц осталось?

а) $7 + 3 = 10$

б) $10 - 3 = 7$

в) $10 - 7 = 3$

г) $4 + 3 = 7$

5. Укажи соседей числа 6

а) 5 и 7

б) 4 и 5

в) 3 и 7


6. Поставь нужный знак $>$, $<$, $=$

5 4

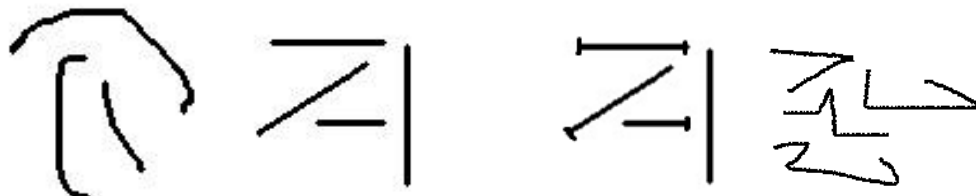
7 7

3 4

7. Найди и раскрась треугольник



8. В какой группе нарисованы только прямые линии



Обработка результатов теста

Уровни освоения программы определяются в зависимости от набранных баллов. Максимальное количество баллов-8, минимальное количество баллов-3. Тест считается непройденным, если количество набранных баллов-2 и менее. Установлено 3 уровня усвоения ДООП «Веселая математика»:

Уровень	Сумма баллов
Низкий	3-4
Средний	5-6
Высокий	7-8

Испытуемые, получившие оценку **1-2 балла**, характеризуются как обучающиеся не освоившие программу.

Набравшие **3-4 балла**, имеют низкий уровень сформированности элементарных математических представлений. Требуется индивидуальная работа по формированию и развитию математических представлений.

Для испытуемых, набравших **5-6 баллов**, характерен **средний уровень** проявления математических знаний и умений. Требуется дальнейшая работа по формированию и развитию математических представлений.

Оценка **7-8 баллов** свидетельствует о **высоком уровне** сформированности элементарных математических представлений .